



حکومەتی هەریمی کوردستان  
وەزارەتی پەرۆردە  
بەرپۆه بەرایەتی گشتیی پرۆگرام و چاپەمەنییەکان

# شارەزایی و چالاکییەکان بۆ منداڵانی باخچە

ئاستی دووهم

وەرگیڕان و گونجاندن

صادق أحمد عثمان  
سیف حسام محمد

نازدار صالح حمید  
نەمام جلال رشید

کوردی ٢٧١٩

زاینی ٢٠١٩

١٤٤٠ کۆچی

چاپی سییهەم



سهرپهرشویی هونهری چاپ  
عثمان پیرداود کواز  
خالد سلیم محمود

تایپست و نه‌خشه‌سازی ناوه‌روک  
خالد سلیم محمود

به‌رگ  
عثمان پیرداود کواز

## پیشه کی

نامانجی باخچهی مندالان گه شه کردنیکی گشتگیر و ته و اوکار و هاوسه نگه له که سایه تی مندال، له گشت ره هه نده جیاوازه کانی (جهسته یی، کوزانیاری و سوزداری)، نه مه شیان له پروانگه یی نه وه ی که له بنه رهدا سروشتی مروف سروشتیکی نهرم و نیانه، نه گهر هه لی گه شه کردنی بو بره خسیت، که واته به شیوه یی کی نورگانی به ژینگه کی ده به ستریت هوه کاریتیده کات و کاریتیده کریت .

که مندال له دایکده بیٹ کومه لیک توانا و ناماده باشی تیدایه بو فیروون و گه شه کردن له میانه ی کارلیکی له گه ل ژینگه ی گشتی، که پیداویستییه بنه ره تیه کانی مندال تیرده کهن، سه ره رای نه وه ی که توانستی هه یه، له م قوناعه دا جیاکاربیکات له نیوان نه و وروژینه رانه ی پیداویستییه کانی تیرده کهن و نه وانه ی که تیرینا کهن، نه وه بیان هه لده برتیریت که خو ی په سه ندی ده کات، نه مه شیان له میانه ی نه و چالاکیاننه ی که ماموستای مندالانی باخچه ده سه به ری ده کات، که واته چالاکیه فیرکاریه کان به کوشیکی ژیری و جهسته یی داده نرین و نه و پیاده کردنه فیرکاریاننه ی که مندال نه نجامیان ده دات له ناو باخچه و دهره وه یدا، وه ک به شیک له پرۆسه ی فیروون و فیرکردن به مه به ستی بنیادنانی شاره زاییه کان و به ده سه ته ینانی کارامه ییه پیویسته کان له پرۆسه ی فیرکردن له بواره کانی کوزانیاری و هه سه جو له یی و سوزداریه وه داده نرین.

چالاکیه کان به یه کی که له توخمه سه ره کییه گرنه کانی بنیادنانی که سایه تی مندال داده نرین، که یارمه تیدهر ده بن له گه شه کردنی توانای پشت به خو به ستن و ژیری و پیکه ینانی نهریت و کارامه یی و به ها و شیوازه کانی بیرکردنه وه و زیاد کرنی ده سه که وته نه کادیمییه کان و هینانه دی پیداویستییه کانی مندال که له گه ل ناره زووه کانیان ده گونجیت و یارمه تییان ده دات له چیژ وه رگرتن له به های کوشش و کاری به کومه ل، سه ره رای نه وه ی باخچه ده کریته لانه یه کی چالاک که زینده گی و کارکردنی تیدایه .

چالاکیه کان رو لیک گرنگیان له به جیه ینانی نامانجه فیرکاری و په روه رده ییه کان له هه موو ناسته کاندای هه یه، جگه له وه ش کارده کهن له پرکردنه وه ی که موکورییه کانی مندال، که پیویستی به چالاکی کومه لایه تیی زیاتر هه یه، هه روه ها پیویسته چالاکیه کان ته و اوکهری یه کترین بو نه وه ی به شداری بکهن له پینگه یاندنی که سایه تیی مندال له گشت لایه نیکه وه و پیویسته نه و چالاکیاننه جوراوجور بن، چونکه مندالان له گرنگیان و پانه ر و توانا و ناماده باشیان بو فیروون و گه شه کردن جیاوازیان هه یه، ده بیٹ له چالاکی روژانه و ریگه دان به مندال نهرمی بنوینریت بو نه وه ی له چالاکیه که وه بگوینریت هوه بو چالاکیه کی تر به پیی ناره زووی خو ی و به شیوه یی کی پله به ند، چونکه مندال ناتوانیت بو ماوه یی کی دریزخایه ن له ناو هه مان چالاکی به رده و امییت .

ماموستای به ریز :

مندال ته وه ری کرده ی په روه رده ییه و مروفتیکی چالاک و کارا و نه رینییه، نه نجامدانی چالاکیی نوی ده وه ستیته سه ر له به رچاوگرتنی نه مانه ی خواره وه :

ریخوشکردن و نافراندنی پانه ر و هاندان، تیرکردنی هه ز و ناره زووه کانی فیروونی مندال، خرۆشانی ناره زووه کانی له بابه تی چالاکی، له به رچاوگرتنی جیاتاکی له نیوان مندالان، هه روه ها نه نجامدانی شاره زایی

و چالاکی زانستی نامانجدار، که یارمه‌تییان دهدات له هه‌ئسانیان به‌کاری بنه‌ره‌تی له میان‌هی چالاکی و به‌کاره‌ینانی شاره‌زاییه فیرکاراییه‌کان، نهمه‌ش له‌ریگه‌ی ناماده‌کردنی نه‌و هه‌ئویستانه ده‌ییت، که منداڵ هاندهدات بو وه‌لامدانه‌وه‌یان و زمانیکی ئاسان به‌کارده‌ییت، هه‌روه‌ها هه‌ئویست و چالاکییه‌کان هه‌مه‌جور ده‌بن و شیوازی هاندان بو تاک و کۆمه‌ل به‌کارده‌یت و سه‌ربه‌ستی منداڵ له‌و چالاکییه‌کانه‌ی، که یارمه‌تیده‌رن بو گه‌شه‌کردنی جوته‌یی نه‌به‌رچاو ده‌گریت و گرنگی به‌ چالاکییه‌ کۆمه‌لایه‌تییه‌کان دهدات له‌ جیبه‌جی‌کردنی چالاکییه‌کان له‌ پرۆگرام و هه‌روه‌ها نه‌رمونیان ده‌ییت، به‌واتای نه‌وه‌ی نه‌گه‌ر چالاکییه‌ نامانجداره‌کانی پرۆگرام به‌دینه‌هاتن چالاکی جیگه‌وه‌یان پینشه‌شده‌کات، یان نه‌و کاته‌ی که منداڵ ئاره‌زووی پیاده‌کردنی نه‌م جوره‌ چالاکییه‌ی نییه‌ و پتویسته‌ مامۆستا هه‌لی زیاتر بو منداڵ بره‌خسینییت بو نه‌وه‌ی بو‌خۆیان چالاکییه‌که‌ تاقیبکه‌نه‌وه‌ به‌مه‌رجیک ژینگه‌ و نامیره‌ سه‌رنجراکیشه‌کان، که هاندهرن بو تاقیکرنه‌وه‌ و پیاده‌کردنی چالاکییه‌کانیان بو ناماده‌بکریت.

# پهكهي من و هاورپكانم

## هاورپكانم خۆشدهويت



## له باخچه دا له گهڼ هاورپکانم یاریده کهم



کورپکان ده ژمیږم

کچه کان ده ژمیږم

## له باخچه‌دا فیږی ناوی هاورپګانم ده‌بم



## سلاو له هاورپکانم دهکهم



سلاو من ناوم

سلاو من ناوم





نیشانهی  بۆ هه ئسوكهوتی جوان دادهئیم




دلخۆشن




تورهن

- مامۆستا منداڵان هاندهدات بۆ گفتوگۆکردن دهربارهی وینهکان.
- کام هه ئسوكهوت جوانتره؟

نیشانه‌ی  بۆ هه‌لسوکه‌وتی جوان دادەنیم



دلخۆشن



تورهن

به شاداری له خوشی هاوریکانم دهکهم



فودانه کان دهژمیږم  
کلاوهکان دهژمیږم

## من لهکاتی پیوستیدا هاوکاری هاوړیکانم دهکهم



بلن:

که هاوکاری هاوړیکه ت دهکیت هه ست به چی دهکیت؟

• نیگه رانی • دلخوښی

باران له کام وهرزدا دهباریت؟

• زستان • هاوین

## من له گهڻ ٺاهوڙيڪانه هاوسوزم و خوشمدهوين



به يارمه تيداني هاوڙيڪانه دلخوش دهبم.

يارمه تي خاوهن پيداويستي تايبه تي ددهم. له خواردني خوم به شي هاوڙيڪه م ددهم.



## ویندی هاورپکانم رهنگ دهکهم



با بهیه که وه بژمیرین

شەش





۶



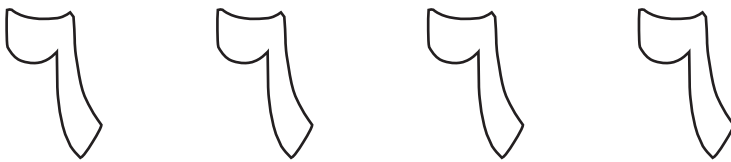
۶



ژمارهی هاوړیکانی ناو وینه که ده نووسم .....



ژماره که رهنگده که م



ژماره که توخده که م





# جانتاكان ده ژميرم و ژماره ي راست دهور ددهم




٦ ٥ ٤ ٣ ٢ ١

ژماره كان له ١ تا ٦ دهنوسم

-----

زەرافە



پیتەكە تۆخ دەكەم

ز ز ز ز ز

پیتەكە رەنگ دەكەم

ز ز ز ز ز

پیتی ( ز ) له ناو وشه کانددا دهور ددهم

ئاسک

پشيله

بز



نهو وینهیه دهور ددهم، که دهنگی (زی) تیدایه



کیوی



زهیتون



خوخ



موز

سېو



س

كراس



س

پېتهكه رهنګ دهكهم

س س س س س

پېتهكه توخ دهكهم

س س س س س

پیتی (س) ئە ناو وشەکاندا دەور دەدەم

بەلەم ئاسمان کەشتی

نیشانەى  بۆ ئەو وینەیهى دەنگى (س) ی

س

تیدایه، دادەنیم.



شەمەندەفەر



فرۆكە



ئۆتۆمبیل



پایسکل

شهو



رەش



پیتەكە رەنگ دەكەم



ش

پیتەكە تۆخ دەكەم



ش


پیتی (ش) له ناو وشه کاندایا دهور ددهم

شار شاخ دهشت

نیشانه‌ی  بو نهو وینه‌یه‌ی دهنگی (ش) ی

ش

تیدایه، داده‌نیم.




شاخ



تافگه




پوبار



دار

## پهڪهه ٺاڻو ۽ خوراڪ




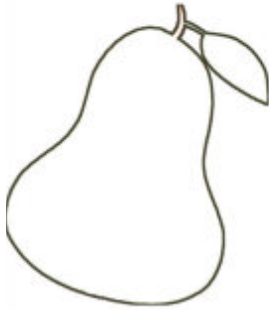
نه ويٺهڪهه ڇي دهينيتا؟



ٻوار به منڊال دهريت دهبراهي ويٺهڪهه گفٽوگو بڪات.



به هیئیک وینه‌کان به هاوشیوهکانیان ده‌گه‌یه‌نم و ره‌نگیان ده‌که‌م



به هیلیک وینهی په یوه نندیدار ده گه یه نم



هه نگوین



گه نم



بۆن



زهیتون



نان



هه نگ



رۆن



گول



بەفیرۆنەدانی ئاو

بەکارهێنانەکانی ئاو

خواردنەوه



خۆشوشتن



ئاودان



گواستنەوه



## به کارهینانه کانی ئاو

قاپ شوشتن



مه له کردن



چیشته لینان



تۆش باس بکه: ئاو بوچی به کاردیته؟

## ویندی به کارهینانی ئاو رهنگ دهکهم



## سەرچاوه‌کانی ئاو

وشه‌کان تۆخ ده‌که‌م




باران



ڕووبار



ده‌ریا



تاقوکه



ئیشیر

## ئاو پيويسته بو ئازهل و روهك



له ويته كه دا:

گيانه وهره كاني سهر زهوى ده ژمييرم


گيانه وهره كاني ناو ئاوه كه ده ژمييرم

ناوى ئازهل ئيك ده ئيم به پيتى (ب) ده ست پيبكات.

## ماسی له ئاودا دهژیت



## ماسییه که رهنگ دهکهم







## دۆخه كانى ماده

دۆخى رهقى



تۆخ دهكهم

بشقر

دۆخى شلى



تۆخ دهكهم

شاور

دۆخى غازى



تۆخ دهكهم

غاز

## دۆخی شلی دەور دەدەم



## دۆخی رەقی دەور دەدەم



## دۆخی گازی دەور دەدەم




کاره‌با به‌فیرو نادم



چرا کوزاوه‌کان ده‌ژمی‌رم

چرا داگیرساوه‌کان ده‌ژمی‌رم



چرا کوزاوه‌کان چه‌ندن؟

چرا داگیرساوه‌کان چه‌ندن؟

به هیلک موگناتیسسه که به نهو مادهیه دهگهیه نم که بو لای  
خوی رایدهکیشت



## سه رئاو كه وتن و ژيرئاو كه وتن



**سهيري وينه كه ده كه م:**

ناوي نهو مادانه ده ئيم، كه ژيرئاو ده كه ون  
ناوي نهو مادانه ده ئيم، كه سه رئاو ده كه ون

ئىمەى مروف له ژيانى رۆژانه ماندا پيويستمان به ئاو و خوراكه.



له گهڻ ھاوريگه م باسى خواردنيگ دهكەين، كه چه زمان ليه تي.


## گه شه کردنی روهک



وینده قوناغیک له قوناغه کانی  
گه شه کردنی روهک ده کیشم.



## خوردنه روهكيبه كه دهه دهه





## خواردنه نازهيبيكه دهور ددهم



# ويئەى رووەكەكە رەنگ رەنگ دەكەم، وشەكان تۆخ دەكەم



پەپەرە



گۈل



چىرىق



سۈك

## سوودی پروهک بۆ مروّف

هه نديک که لويه لی مائمان له دار دروستکراون



ناوی هه نديک له که لويه لی ناوماڻ ده ئيم، که له ته خته دار دروستکراون.

سەير دەكەم و دەئيم،  
وشەكان تۆخ دەكەم.




سەيپور



كۆرۈشت








شەير



مايى

نىگارى ئەو ميوەيەي كە  
ئەزوم ئيەتى دەكىشم.


به هیلیک وینه که به هاوشیوه که ی ده گه یه نم



## داره کورته که دهور ددهم

ژماره‌ی داره‌کان دهنوسم

.....



## دریژترین دار پهنگ ده‌کهم

ژماره‌ی داره‌کان دهنوسم

.....



(كەم و زۆر)



زۆر



كەم

• ئايا سېۋ خواردىڭىز پۈتتۈڭىز يان ئازەتتە؟

• كچەكە چەند سېۋى ھەيە؟

• كۈرەكە چەند سېۋى ھەيە؟


• سېۋەكان چە رەنگن؟



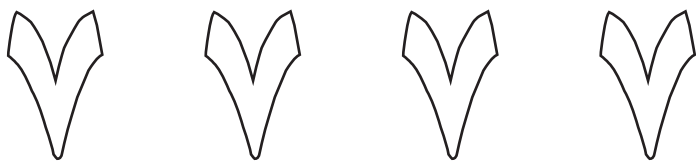
با بهیه‌کاهه  
بژمیرین



جهوت



ژماره‌که رهنگ ده‌که‌م




ژماره‌که توخ ده‌که‌م






ژماره‌ی گونجاو له ناو چوارگۆشه‌که‌دا ده‌نووسم



A visual equation showing 6 pineapples on the left, followed by an equals sign, then 1 pineapple, a plus sign, and 5 pineapples on the right.

$$\square = \square ٦ + \square ٥$$

ژماره‌ی گونجاو له ناو چوارگۆشه‌که‌دا ده‌نووسم



A visual equation showing 9 green bell peppers on the left, followed by an equals sign, then 3 green bell peppers, a plus sign, and 6 green bell peppers on the right.

$$\square = \square ٣ + \square ٦$$

قاپ



پاس



پیتەكە رەنگ دەكەم




پیتەكە تۆخ دەكەم



پیتی (پ) ئەناو وشەکاندا دەور دەدەم

پایز بەهار ھاوین




نیشانەى  بۆ ئەو وینەییەى دەنگى (پ) ی تێدایە، دادەنێم.



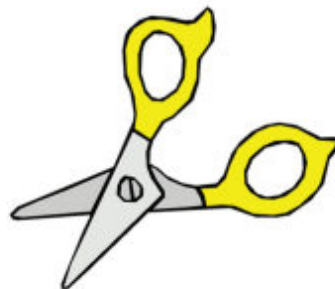
کتیب



تۆپ



راسته



مقەست

بۆق



دۆ



پیتەكە رەنگ دەكەم



پیتەكە تۆخ دەكەم




پیتی (ۆ) له ناو وشهکاندا دەور دەدەم

تۆز باران زریان




نیشانهی  بۆ ئەو وینەیهی دەنگی (ۆ) ی

تێدایه، دادهنیم.



هه‌یڤا



خۆر



ئه‌ستیره



تیشک

مرۆف

ف



پیتەكە تۆخ دەكەم

ف ف ف ف

ف

پیتەكە رەنگ دەكەم

ف ف ف ف

ف

پیتی (ق) له ناو وشهکاندا دهور ددهم.

قان سؤلاف نیان




نیشانهی  بؤ نهو وینهیهی دهنگی (ق) ی


تیدایه، دادهنیم.



قه نه م



تاقگه



خشت



تاوس

یه که ی ژینگه

ژینگه که مان جوانه




ژینگه ی خاوین هه واکه ی پاکه.





سیوه‌کانی سه‌رداره‌که ده‌ژمی‌رم و زه‌ردیان ده‌که‌م.  
سیوه‌کانی ناو سه‌به‌ته‌که ده‌ژمی‌رم و زه‌ردیان ده‌که‌م.

# ژینگه که م هه هه جوړه



## پاکوڻا وٺڻي ڙينگه



نه ويٺه ڪه دا: منڊالڙهه ڪه خشاڪ فريده داته ڪوئ؟  
( ناو ڙيلڊان ، دهره وهي ڙيلڊان )




نه ويٺه ڪه دا: منڊالڙهه ڪه چي دهڪات؟  
( ڪاغذ هه لڏه گريته وهه ، دانيشته وهه )

## پېسبوونی ژینگه

دهبینم و دهئیم




پاشماوهکان



ئاوی پیس



دوکه ئی کارگه و ئوتۆمبیلهکان



دهنگی بهرز

نېشانەى  بۇ وېنەى دروست دادەنېم.

نېشانەى  بۇ وېنەى نادروست دادەنېم.



ئۆتۈمبېل

تۆخ دەكەم



رەنگى ئۆتۈمبېلەكە دەور دەدەم

شىن

سەوز

سوور

## ژینگه کهم به پاکی راده گرم



ژووره کهم خاوینه



باخچه کهم خاوینه



شه قامه کهمان خاوینه



مائه کهمان خاوینه



گه ره کهمان خاوینه

له یاری مه ترسیدار دوور ده که و مه وه:



یاریکردن به ناگر



یاریکردن به کارهبا



یاریکردن به غاز






یاریکردن له شه قام





یاریکردن به چه قو

گیانه وهره کان رهنگ دهکهم و به هیلیک به ژینگه کانیان دهگه یه نم





## كۆمە ئەكان



وېنەكان دەژمېرم و ئە ناو بازنەكاندا دەياننوسم.





- سهیری وینه که ده کهم و ناوی میوه یهک ده ئیم.
- نهو که سهی میوه ده فرۆشیت پیی ده ئین (میوه فرۆش).
- ته رازوو بوچی به کار دیت؟

بۆ كۆمە ئەكە دادەنەيم




نیشانەى





که رویشکه که به گیزه ره کان ده گه یه نم






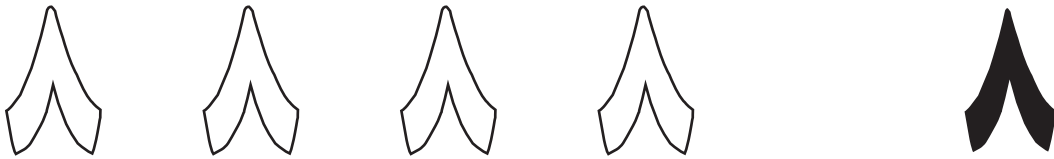
با بهیه‌کوه  
بزمیرین



هه‌شت







ژماره‌که ره‌نگ ده‌که‌م.



ژماره‌که توخ ده‌که‌م.



پشيله كان ده ژميرم و ژماره راسته كه رهنگ ده كه م



نۆك



باران



پیتەكە تۆخ دەكەم



پیتەكە رەنگ دەكەم



پیتی (ن) له ناو وشه کانددا دهور ددهم

ههور

سیبهر

ناسمان

ن

نهو وینهیه دهور ددهم، که دهنگی (ن) ی تیدایه.



سهیوان



دهستهوانه




چاکهت



شه پقه



نه عناع



پیتہ کہ توخ ده که م

ع ع ع ع ع

پیتہ کہ رهنگ ده که م

ع ع ع ع ع

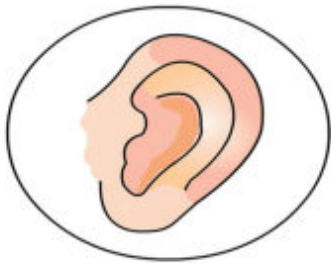
پیتی (ع) له ناو وشه کانددا دهوړ ددهم.

عومان

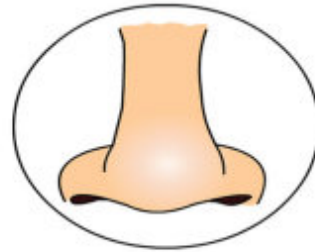
عیراق

سوریا

نیشانه‌ی  بو نهو وینه‌یه‌ی دهنگی (ع) ی تیدایه، داده‌نیم.



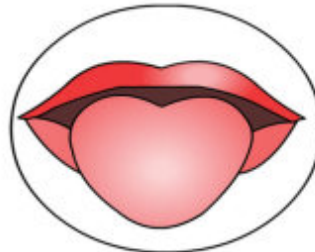
گویی



نووت



عینه‌ی



زمان

غاردان



سپیناغ



پیتەکه تۆخ دهکەم



پیتەکه رەنگ دهکەم



پیتی (غ) له ناو وشه كاندا دهور ددهم.

به غذا خانوو دوکان

نیشانهی  بو نهو وینهیهی دهنگی (غ) ی تیدایه، داده نیم.



غوریللا



سهگ



که نگر



توتی

## یه‌که‌ی نیشتمان‌ه‌که‌م

نه‌خشه‌ی هه‌ری‌می کوردستان - عی‌راق



نیشتمان‌ه‌که‌م ناوی هه‌ری‌می کوردستانه.  
ئالاکه‌م چوار ره‌نگه‌ سوور، سپی، سه‌وز، زه‌رد.  
ناوی (شار/ شارۆچکه/ گوند)  
ناوی پارێزگا‌که‌م

## نه‌خشەى هەریمی کوردستان:



نیگاری دەستم لەسەر نه‌خشەى هەریمی کوردستان  
دەکیشم و پەنگی دەکەم.  
ئایا دەزانیت ناوی خۆت لەسەر وینەکە تۆمار بکەیت؟



باشترین شوین  
هه لده بژیرم بۆ  
کرینی خواردن



نیگاری یه کییک له و  
به رهه مانه ده کیشم،  
که له ناو وینه که دا  
هه یه.



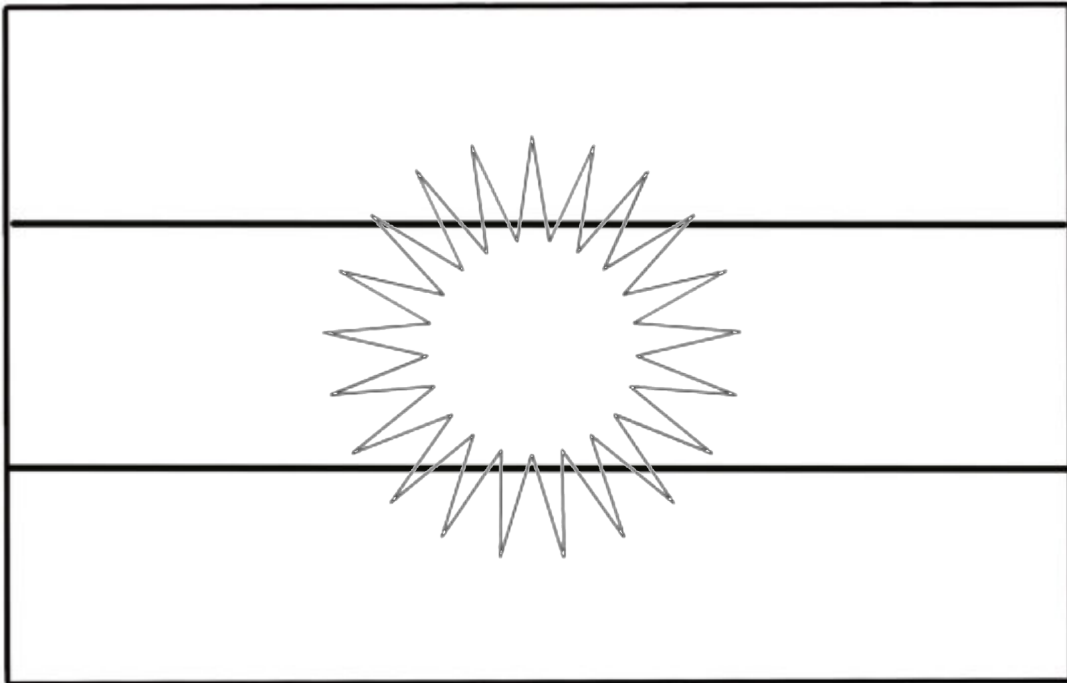
نیشتمانی من هه ریمی کوردستانه  
من خه ئکی کوردستانم

ئالا

وشه که توخ ده که م



## ئالاکەم رەنگ دەکەم



## شاره گه‌وره‌کانی هه‌ریمی کوردستان



هه‌ولیر



سلیمانی



دهۆک



که‌رکوک



هه‌له‌بچه


# سروشتی ههریمی کوردستان جوانه



دارستان



دهریاچه



چیا




دهستایی

## شوینه‌واره‌کانی هه‌ریمی کوردستان



قه‌لای هه‌ولیر



سه‌رای سلیمانی




پردی ده‌لال له زاخۆ



قه‌لای که‌رکوک

## بهرزکردنه‌وی ئالا و سرودی نیشتمانی



• ئایا بهرزکردنه‌وی ئالا دڤخۆشت ده‌کات؟

• چه‌ند منداڤ له‌ویته‌که‌دا ده‌بینیت؟



رهنه‌کانی ئالاکه‌م ده‌ئیم.

چهند منداڵ له وینه‌که‌دا هه‌یه‌؟

# وینہکان به هاوشیوهکانیان دهگه یهنم و ناوی خاوهن پیشهکان دهئیم



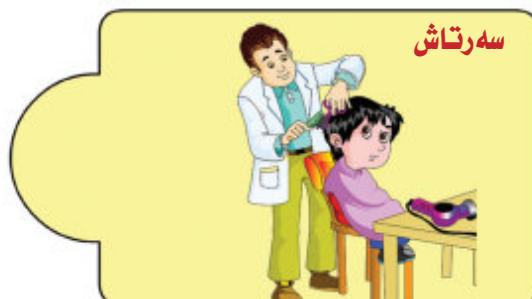
پزیشکی ددان



دارتاش



نه ندا زیار



سه رتاش



ناسنگه ر

## پیشه کان



باخه وان زهوی ده کیلیت.  
باخه وان نه مام ده پروینیت.

باخه وان ه که چی به ده سته وهیه؟

## پزیشک



(بیستوکه)

پزیشک به چی نه خوش ده پشکنیت؟



**ژینگه پاریز**  
**شه قام و کولانه کان پاک دهکاته وه**

**ژینگه پاریز**



**ژینگه پاریز به چی شه قامه کان پاک دهکاته وه؟**

**به رگدروو جلوبه رگمان بو دهرویت.**



**به رگدروو به چی جلوبه رگمان بو دهرویت؟ .....**

# وینہی ہہریہک لہ پیشہکان رہنگ دہکهم



پزیشک



سہرتاش



ناگر کوژینہوہ

# ناوی خاوهن پیشه‌کان ده‌ئیم



پۆلیسی  
هاتوچۆ




په‌نچه‌رچی




نه‌ندازیار


نیشانهی  بۆ ئەو کەسه دادەنێم کە ئەباخچە فێرم دەکات




## داریتاشه که رهنگ دهکهم



نیشانهی  بۆ ئه و كه سه داده نيم كه چاوديري نه خوش دهكات



نیشانهی  بۆ پیشه‌ی دوارپوژم داده‌نیم



مامۆستا ده‌پرسیت چه‌زده‌که‌یت له‌دوارپوژدا بییت به‌چی؟

دهبینم و دهئیم ئایا ئەمه:

پزیشکه  
یان  
سه‌رتاشه؟



فیتهره  
یان  
ژینگه پارێزه



مامۆستایه  
یان  
پزیشکی چاوه؟



## شۆئىنى كارکردن



- ناوى ئۆتۈمبىلەكان دەئىم.
- كرىكار و ئەندازىارەكان دەژمىرم.
- رەنگى كالاوى كرىكارەكان چۈنە؟



• ژماره نادياره‌كان ته واوده‌كهم.

• به‌رزكه‌ره‌وه بوچى باشه؟

• خشتى ژماره (۱) كام په‌نگه؟

## به هیئتک نامیرهکان به خاوهن پیشهکان دهگه یه نم




ههردوو رهگهز به یه کسانى خزمه تی نیشتمان دهگه ن.

بۆنه و جهژنهكان  
جهژنى دايك



وشه‌ى دايك توخ ده‌كهم.

جهژنى ماموستا



وشه‌ى ماموستا توخ ده‌كهم.



## بۆنە و جەژنەكان



جەژنى سەرى سائى كۆچى



جەژنى سەرى سائى زاينى



جەژنى سەرى سائى ئىزىدى  
چوارشەمە سوور



جەژنى نەورۆز



جەژنى لەدايكبوونە

جهزنى رهمهزان



تۆخ دهكهم رهمهزان

جهزنى قوربان



تۆخ دهكهم جهزنى قوربان

## جلوبه‌رگ و پیکه‌اته نه‌ته‌وه‌پیه‌کان له هه‌ریمی کوردستان



به ناره زوی خۆم جلوبه رگه کان رهنگ ده کهم



کوردی



عه ره بی








با بهیه كه وه  
بژمیرین

نۆ



ژماره كه رهنگ ده كه م.



ژماره كه توخ ده كه م.



فرۆكه



ف

دهف



ف

پیتەکه توخ دهکههه

ف ف ف ف ف

پیتەکه رهنگ دهکههه

ف ف ف ف ف

پیتی (ف) له ناو وشه کانددا دهور ددهم.

شیر پلنگ فیل

نیشانهی  بو نهو وینهیهی دهنگی (ف) ی تیدایه، داده نیم.




پرته قال



بیبه ر



پیفوک



تور

قهلا



سماق



پیتەکه توخ دهکەم

ق ق ق ق ق

پیتەکه رەنگ دەکەم

ق ق ق ق ق

پیتی ( ق ) له ناو وشهکاندا دهوړ ددهم.

دهست سهر قاچ


نیشانهی  بۆ نهو وینهیهی دهنگی ( ق ) ی تیدایه، دادهنیم.



فرۆکه



پاپۆر



شهمه نده فەر



قه لابه

کتاب



ک

کائە



ک

پیتەکه تۆخ دەکەم

ک ک ک ک ک

پیتەکه رەنگ دەکەم

ک ک ک ک ک

پیتی (ک) له ناو وشه کانددا دهوړ ددهم.

کورسی میز بورد

نیشانهی  بۆ نهو وینهیهی دهنگی (ک) ی تیدایه، دادهنیم.



سیدی



خامه



بورد



کورسی

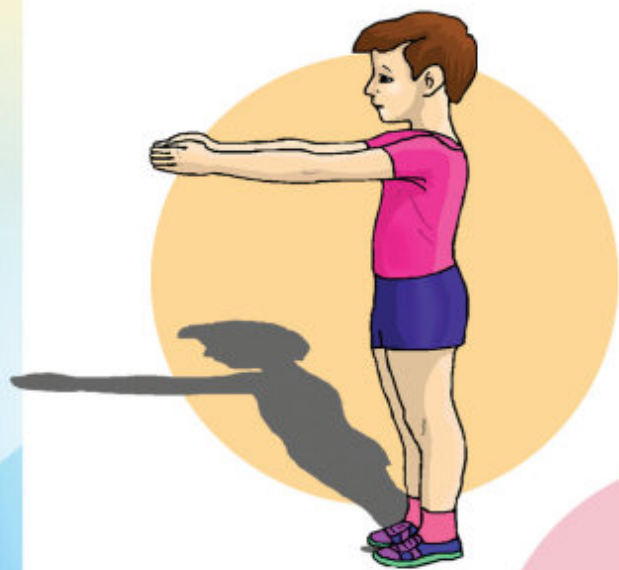
# يەكەي جەستەمان

## ئەندامەكانى جەستە





## راهبانه كانى به هبزوونى جه سته



له وینه كاندا چند جور جوتهى وهرزشى ده بیینی؟  
ده ژمیرم

گۈل



گ

ھەنگ



گ

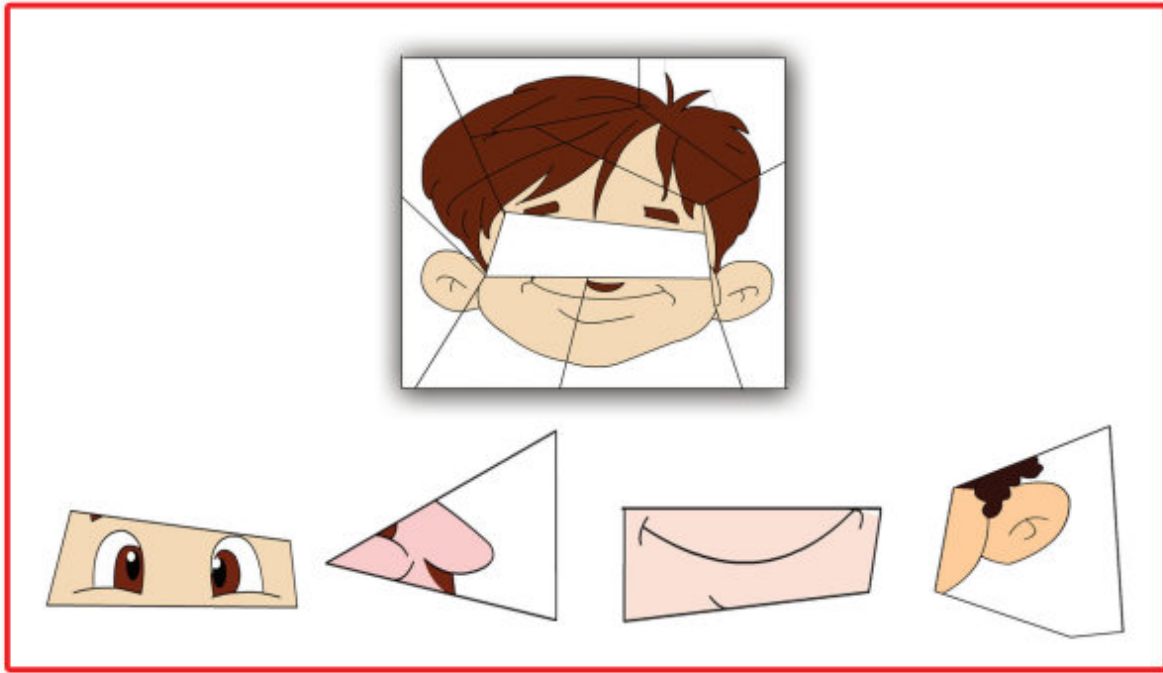
پیتەكە تۆخ دەكەم

گ گ گ گ گ


پیتەكە رەنگ دەكەم

گ گ گ گ گ

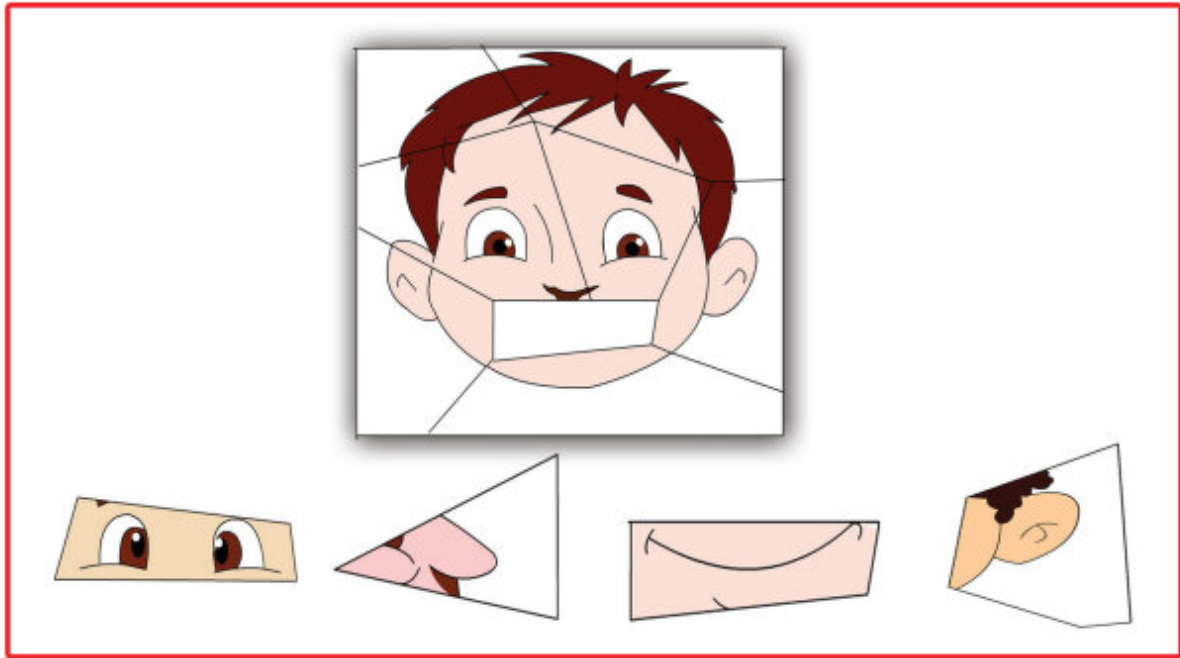
به هیلیک وینه ناته واوکه ته او ده کم



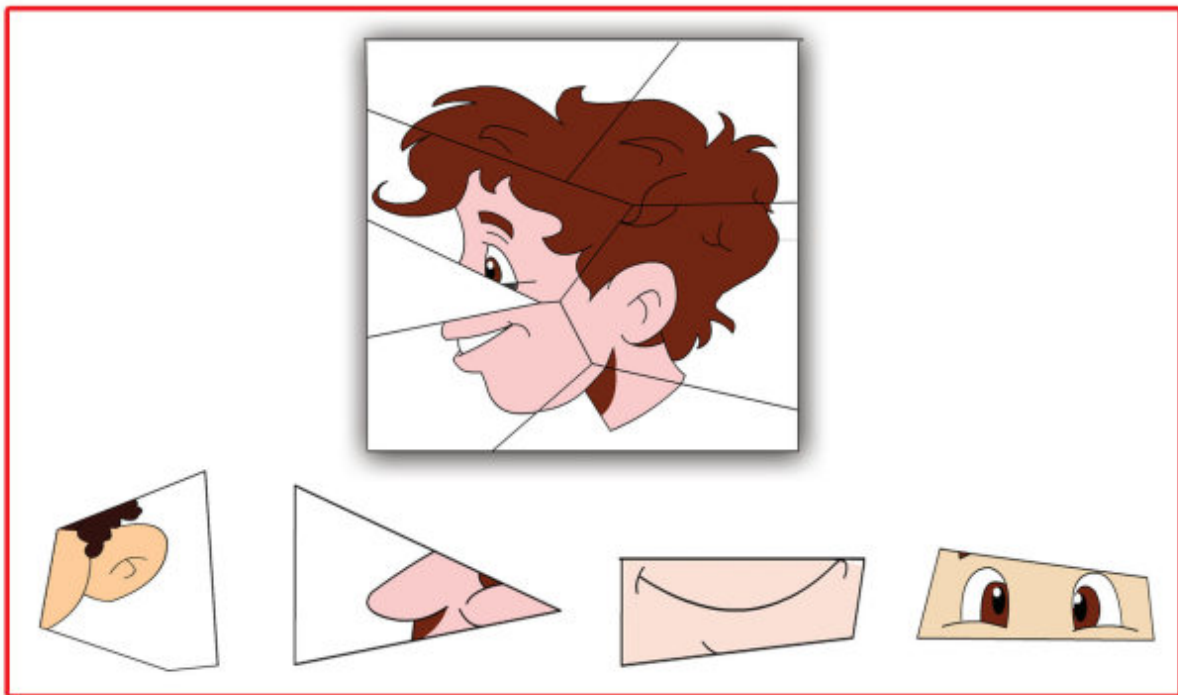
به هیلیک وینه ناته واوکه ته او ده کم



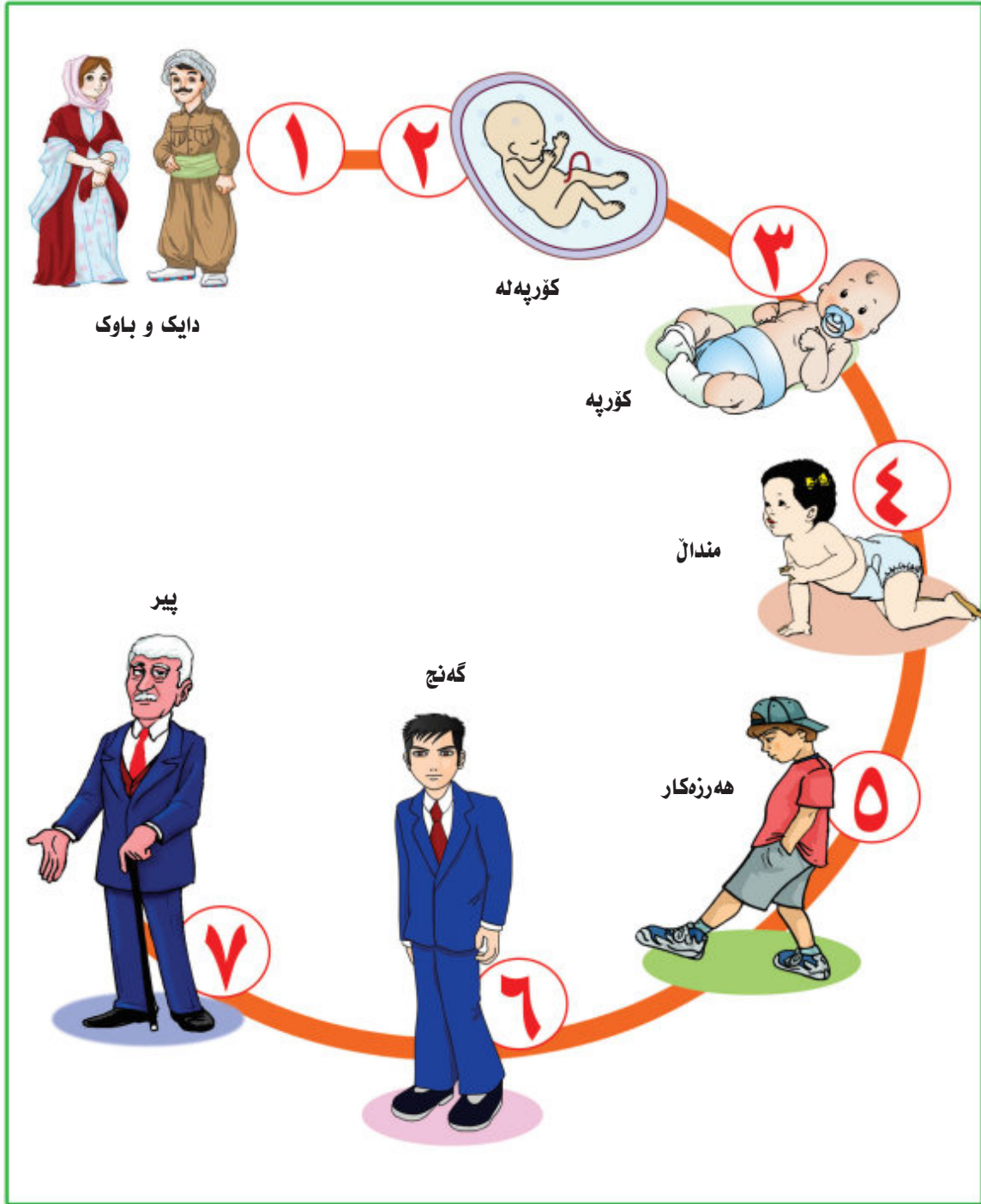
به هیلیک وینه ناته واوه که ته واو ده که م





به هیلیک وینه ناته واوه که ته واو ده که م



# گەشە کردنی مروۆف



## قۇناغەكانى گەشەكردنى مروۇف ريزبەند دەكەم



## پاکوځاویڼی

نهم وینانه رهنگ دهکهم که نیشانهن بو پاکوځاویڼی



جلوبه رگی ځاویڼ



خوشوشتن



دهستشوشتن



سه رتاشین

ددا نشوشتن



وشه‌ی ددان توخ ده‌کهم.


نینۆککردن



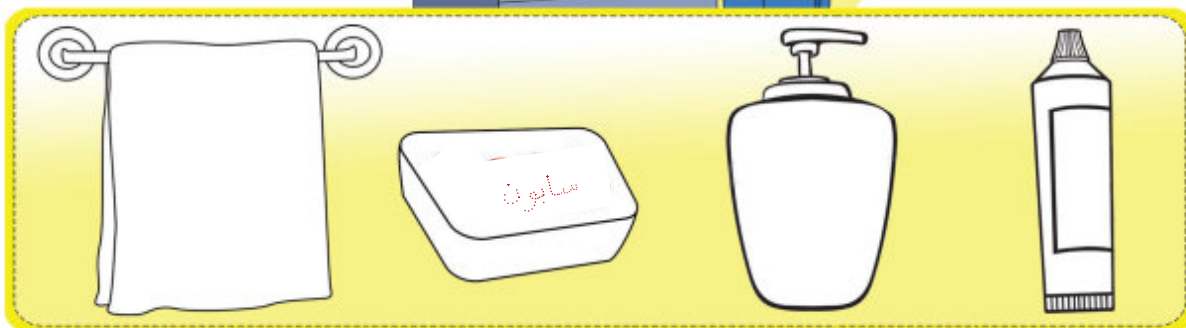
وشه‌ی نینۆک توخ ده‌کهم.



## پیوستیه‌کانی د دانشوشتن ره‌نگ ده‌کهم




## پیوستیه‌کانی ده‌ستشوشتن ره‌نگ ده‌کهم



## پیداویستییه کانی گه شه کردنی دروست

### خوړاک



ناوی نهو خواردنانه ده ئیم، که له وینه که دا ده یانینیم.

### یاری



ناوی نهو یاریانانه ده ئیم، که له وینه که دا ده یانینیم.

وه رزش



له م وینه یه دا مندا له کان چی ده کهن؟.....

حه سانه وه و خه وتن



له م وینه یه دا مندا له که چی ده کات؟.....

## مندائھڪان چي دهڪهن؟




وهريش دهڪات



ياري دهڪات



دهخهويت



خواردن دهخوات

## ههسته کانم



به ركه و تن



بينين

بيستن

بۆنکردن

چهشتن

## ههسته وه ره كان

ههستی بینین



چاو

ههستی بیستن



گۆی

ههستی بۆنکردن



لووت

ههستی چهژتن  
(تامکردن)



زمان

ههستی به ركه و تن

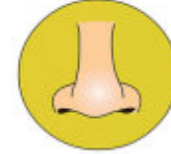


دهست

به هیلیک هسته و هری گونجاو دهگه یه نم



به هیلیک هسته و هری گونجاو دهگه یه نم



## به هیلیک ههسته وهری گونجاو دهگه یه نم




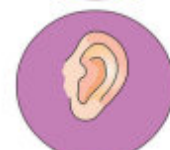
ژماره ی ههسته وهره کانی مروّف ده ئیم.

رهنگی کراسی مندائه که چۆنه؟

به هیلیک ههسته و هری گونجاو دهگه یه نم



به هیلیک ههسته و هری گونجاو دهگه یه نم






به هیلیک به شه کانی جهسته ده گه یه نم





با بهیسه که وه  
بژمیرین

ده




ژماره که رهنگ ده که م.



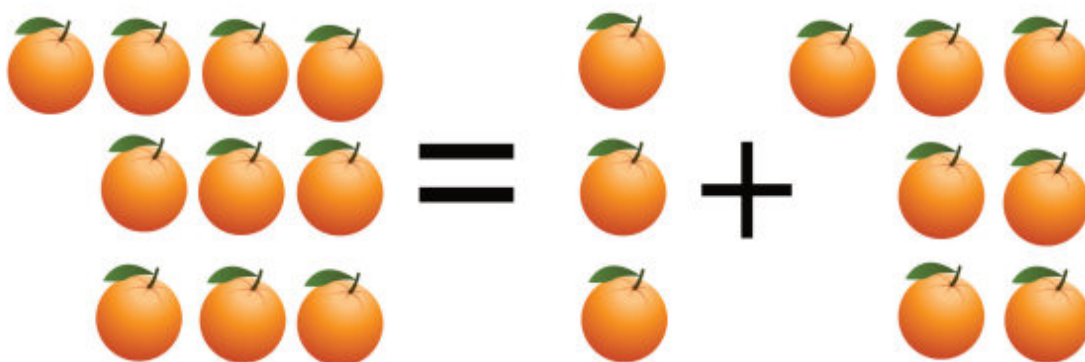
ژماره که توخ ده که م.



## ژماره‌ی گونجاو له‌ناو خانه‌که ده‌نوسم



$$\square = \square 6 + \square 3$$



$$\square = \square 3 + \square 7$$

ژماره‌ی گونجاو له‌ناو خانه‌که ده‌نووسم

$4 = 5 - 9$


$4 = 6 - 10$

لِيُو



ل

فِيل



ل

پیتھکھ تۆخ دھکھم

ل ل ل ل ل

پیتھکھ رھنگ دھکھم

ل ل ل ل ل

پیتی (ل) له ناو وشهكان دهور ددهم.

نارو ليمو لوبيا

نهو وينهيه دهور ددهم، كه دهنگى (ل) ى تيدايه.




ليمو



گيلاس



سيو



شليك

چەتر



چ

كچ



چ

پیتەكە تۆخ دەكەم.

چ

چ

چ

چ

چ

پیتەكە رەنگ دەكەم.

چ

چ

چ

چ

چ

پیتی (چ) له ناو وشه کانددا دهور

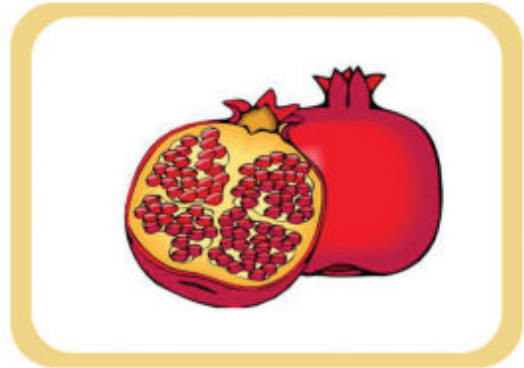
دهدهم.

چیا دۆل چه م


نیشانهی  بو نهو وینهیهی دهنگی (چ) ی تیدایه، داده نیم.



مۆز



هه نار




گیزه ر




قارچک



رئواس



مهړ



پيتهکه توخ دهکهم



پيتهکه رهنگ دهکهم




پیتی (ر) له ناو وشه كاندا دهور ددهم.

رۆژ مانگ نه ستیره

نیشانهی  بۆ نهو وینهیهی دهنگی (ر) ی تیدایه، دادهنیم.



ئاگر



قور



دیاری



پهیزه

هه ئۆ

ه



پیتەکه تۆخ دهکههه

ه ه ه ه ه

پیتەکه رهنگ دهکههه

ه ه ه ه ه

پیتی (ه) له ناو وشه کاند ا دهور ددهم.

هه نجیر به هی تری


نهو وینه یه دهور ددهم، که دهنگی (ه) ی تیدایه.



کاترمیر



چوله که



هیلکه



هیلانه

گول

گ



پیتھکه توخ دهکهم

گ گ گ گ گ

پیتھکه رهنگ دهکهم

گ گ گ گ گ

پیتی (ل) له ناو وشه کانددا دهور ددهم.

ولآت نیشتمان وار

نیشانهی  بو نهو وینهیهی دهنگی (ل) ی تیدایه، داده نیم.



باپیر



مندال



دایک



کچ

يانزه



پ

ماسى



ي

پېتهكه رهنگ دهكهم

پ

پ

پ

پ

پ

پېتهكه توخ دهكهم

ي

ي

ي

ي

ي

پیتی (ی) له ناو وشه کان دهور ددهم.

بیر کانی تافگه

نیشانهی  بۆ نهو وینهیهی دهنگی (ی) ی تیدایه دادهنیم،



په رستار



پیاو



مامۆستا



ژن



# بەھيلىك وىنەكان بە وشەكان دەگەيەنەم

تۆپ



پەنجەرە



دار



دەرگا



## ناوه روک

لا پهړه

۲۳ — ۵

یه که ی من و هاوریکانم

لا پهړه

۵۵ — ۲۴

یه که ی ناو و خوړاک

لا پهړه

۷۵ — ۵۶

یه که ی ژینگه

لا پهړه

۱۱۱ — ۷۶

یه که ی نیشتمان که م

لا پهړه

۱۴۵ — ۱۱۲

یه که ی جهسته مان



